

UBND XÃ ĐẠI LỘC
Trường Tiểu học Hứa Tạo

Môn: Toán


Lớp 2

Người thực hiện : Phạm Thị Ninh



TOÁN

BÀI 22: PHÉP TRỪ (CÓ NHỚ) SỐ CÓ HAI CHỮ SỐ VỚI SỐ CÓ MỘT CHỮ SỐ



KHỞI ĐỘNG





$$12 + 18 = ?$$



Đáp án: 30





$$43 + 47 = ?$$

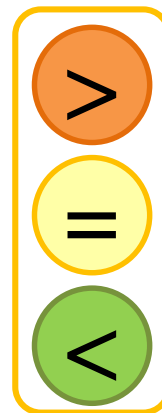


Đáp án: 90





Điền dấu



$$23 + 38 \stackrel{?}{=} 62$$

61



KHẨM

PHẢ









Khám phá

$$32 - 7 = ?$$

Chục	Đơn vị

Chục	Đơn vị

Có 32 quả
dưa hấu và bơ.

Có 7 quả dưa hấu.

Vậy có bao nhiêu
quả bơ?



$$\begin{array}{r}
 32 \\
 - 7 \\
 \hline
 25
 \end{array}$$

- 2 không trừ được 7, lấy 12 trừ 7 bằng 5, viết 5, nhớ 1
- 3 trừ 1 bằng 2, viết 2

$$35 - 7 = 25$$

HỌẠT ĐỘNG





1 Tính.

$$\begin{array}{r} 42 \\ - 8 \\ \hline \end{array}$$


$$\begin{array}{r} 56 \\ - 9 \\ \hline \end{array}$$

$$\begin{array}{r} 60 \\ - 5 \\ \hline \end{array}$$

$$\begin{array}{r} 75 \\ - 6 \\ \hline \end{array}$$

$$42 - 8$$

$$\begin{array}{r} 42 \\ - 8 \\ \hline 34 \end{array}$$




$$56 - 9$$

$$\begin{array}{r} 56 \\ - 9 \\ \hline 47 \end{array}$$




$$60 - 5$$

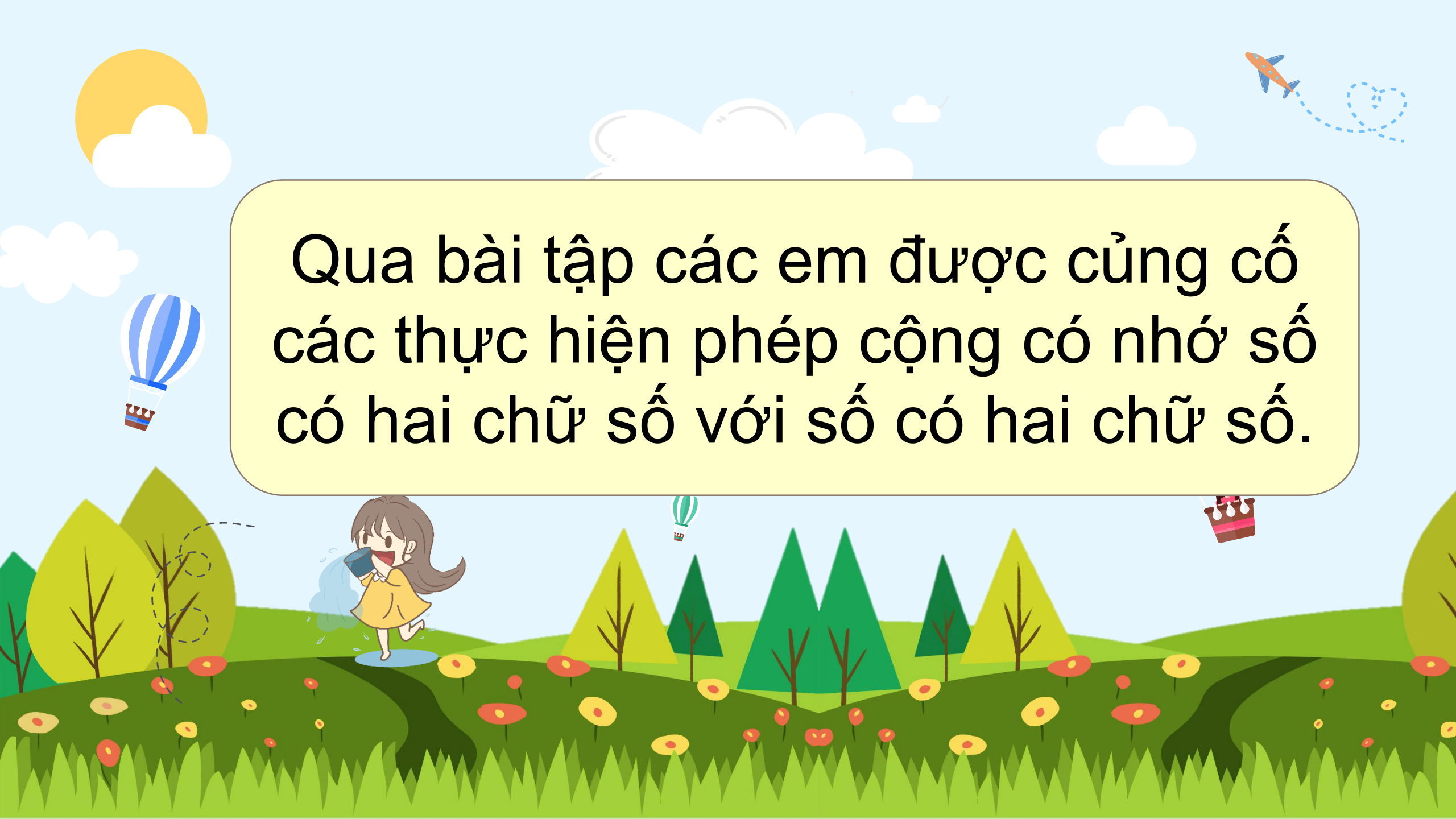
$$\begin{array}{r} 60 \\ - 5 \\ \hline 55 \end{array}$$



$$75 - 6$$

$$\begin{array}{r} 75 \\ - 6 \\ \hline 69 \end{array}$$





Qua bài tập các em được củng cố các thực hiện phép cộng có nhớ số có hai chữ số với số có hai chữ số.

2 Đặt tính rồi tính.

$64 - 8$

$70 - 7$

$83 - 4$

$41 - 5$

$$\begin{array}{r} 64 \\ - 8 \\ \hline \square \end{array}$$



$$\begin{array}{r} 70 \\ - 7 \\ \hline \square \end{array}$$



$$\begin{array}{r} 83 \\ - 4 \\ \hline \square \end{array}$$



$$\begin{array}{r} 41 \\ - 5 \\ \hline \square \end{array}$$



Lưu ý: Giáo viên nhập trực tiếp kết quả phép tính vào slide khi đang trình chiếu




- 3 Ngày thứ nhất, Mai An Tiêm thả 34 quả dưa hấu xuống biển.
Ngày thứ hai, Mai An Tiêm thả ít hơn ngày thứ nhất 7 quả.
Hỏi ngày thứ hai Mai An Tiêm thả bao nhiêu quả dưa hấu xuống biển?




Bài toán
hỏi gì?



Ngày thứ 1: 34 quả dưa hấu



Ngày thứ 2: Ít hơn ngày t1 7 quả



Ngày thứ 2, Mai An Tiêm
thả được bao nhiêu quả
dưa hấu?



$$34 - 7 = ?$$




Bài giải

Ngày thứ hai Mai An Tiêm thả số quả dưa hấu xuống biển là:

$$34 - 7 = 27 \text{ (quả)}$$

Đáp số: 27 quả dưa hấu.



Qua bài tập các em củng cố phép trừ có nhớ vào bài toán giải có lời văn cụ thể.

VẬN
DỤNG





PLAY



Xin chào các bạn, mình là Mai. Hôm nay mẹ mình đi vắng, mình phải ở nhà giúp mẹ thu hoạch trứng gà. Các bạn hãy giúp mình thu hoạch xong trước khi mẹ về nhé bằng cách trả lời đúng những câu hỏi trong mỗi quả trứng.





$$\begin{array}{r} 61 \\ - 8 \\ \hline ?? \end{array}$$


53





$$\begin{array}{r} 56 \\ - 7 \\ \hline ?? \end{array}$$

49





$$41 - 6 = ?$$



35





Để có thể làm tốt các bài tập
trên em được yêu cầu gì?



**CHÚC CÁC EM
HỌC TỐT!**

